

二〇一七年军队院校生长军官招生文化科目统一考试

大专毕业生士兵专升本大学语文试题

考生须知	1. 本试题共七大题,考试时间 150 分钟,满分 150 分。 2. 将部别、姓名、考生号分别填涂在试卷及答题卡上。 3. 所有答案均填涂在答题卡上,填涂在试卷上的答案一律无效。 4. 考试结束后,试卷及答题卡全部上交并分别封存。
------	---

一、单项选择(每小题 2 分,共 14 分)

1. 梁启超《论毅力》的中心论点是_____。
- A. 有毅力者成,反是者败
B. 其阻力虽或大或小,而要之必无可逃避者也
C. 顺逆两境又常相间以迭乘
D. 非至强之人,未有能善于其终者也
2. 《论学问》一文指出治学的目的是_____。
- A. 能权衡轻重、审察事理
B. 娱乐
C. 增长才识
D. 装饰
3. 在《张中丞传后叙》中,当南霁云抽刀断指时,“一座大惊,皆感激为云泣下”,对刻画南霁云的形象来说,这里所运用的表现方法是_____。
- A. 正面描写 B. 侧面描写 C. 心理描写 D. 行为描写
4. 庄子《秋水》的主旨是_____。
- A. 阐发为政以德的政治道理
B. 阐述清静无为的人生哲学
C. 阐释人的认识有限的思想
D. 阐明实行王道的根本措施
5. 《饮酒(其五)》中统领全篇意蕴的词语是_____。
- A. 采菊 B. 心远 C. 忘言 D. 真意
6. 《风波》《断魂枪》《苦恼》的作者依次是_____。
- A. 鲁迅、老舍、契诃夫
B. 鲁迅、契诃夫、老舍
C. 契诃夫、老舍、鲁迅
D. 契诃夫、鲁迅、老舍
7. 《报刘一丈书》中的“报”是指_____。
- A. 报答 B. 报告 C. 报复 D. 回答

二、诗文名句填空(每小题1分,共6分;超过6个,按前6个判分)

8. 中原干戈古亦闻,_____?(陆游《关山月》)
9. 青青子衿,_____.(曹操《短歌行》)
10. _____,两朝开济老臣心。(杜甫《蜀相》)
11. 忧劳可以兴国,_____.(欧阳修《五代史伶官传序》)
12. _____,水随天去秋无际。(辛弃疾《水龙吟》)
13. 是以泰山不让土壤,_____.(李斯《谏逐客书》)
14. 对潇潇暮雨洒江天,_____.(柳永《八声甘州》)

三、文言文阅读(共20分)

15. 阅读短文,回答问题(10分)

匈奴左贤王将四万骑围广。广军士皆恐,广乃使其子敢往驰之。敢独与数十骑驰,直贯胡骑,出其左右而还。告广曰:“胡虏易与耳。”军士乃安。广为圜陈外向,胡急击之,矢下如雨。汉兵死者过半,汉矢且尽。广乃令士持满毋发,而广身自以大黄射其裨将,杀数人,胡虏益解。会日暮,吏士皆无人色,而广意气自如,益治军。军中自是服其勇也。明日,复力战,而博望侯军亦至,匈奴军乃解去。汉军罢,弗能追。

(1) 解释这段文字中加点字的含义。(4分)

①与: ②且: ③解: ④罢:

(2) 这段文字表现了李广怎样的个性特征?(3分)

(3) 这段文字主要运用了哪些方法刻画李广? 举例说明。(3分)

16. 阅读短文,回答问题(10分)

许昌士人张孝基,娶同里富人女。富人只一子,不肖,斥逐之。富人病且死,尽以家财付孝基。孝基与治后事如礼^①。久之,其子丐于途。孝基见之,恻然^②谓曰:“汝能灌园乎?”答曰:“得灌园以就食,何幸!”孝基使灌园,其子稍自力。孝基怪之,复谓曰:“汝能管库乎?”答曰:“得灌园,已出望外,况管库乎?又何幸也。”孝基使管库。其子颇驯谨,无他过。孝基徐察之,知其能自新,不复有故态,遂以其父所委财产归之。

【注】①如礼:按照规定礼节、仪式。②恻然:同情的样子。

(1)解释加点的字。(2分)

其子丐于途

孝基徐察之

(2)翻译下面的句子。(4分)

A. 富人病且死,尽以家财付孝基。

B. 不复有故态,遂以其父所委财产归之。

(3)文中富人之子被“逐”是因为“_____”,孝基“以其父所委财产归之”的原因是_____ (此空用自己的话回答)。(2分)

(4)下列不符合文意的一项是_____。(2分)

A. 张孝基助人有方,在劳动中促使妻子的兄弟转化。

B. 张孝基心地善良,见妻子的兄弟乞讨就给予帮助。

C. 张孝基孝敬老人,按照礼节赡养生病的岳父。

D. 张孝基为人厚道,把岳父委托的财产归还给妻子的兄弟。

四、诗歌阅读(共10分)

我爱这土地

艾青

假如我是一只鸟,
我也应该用嘶哑的喉咙歌唱
这被暴风雨所打击着的土地
这永远汹涌着我们的悲愤的河流,
这无止息地吹刮着的激怒的风,
和那来自林间的无比温柔的黎明……
——然后我死了,
连羽毛也腐烂在土地里面。

为什么我的眼里常含泪水?

因为我对这土地爱得深沉……

17. 诗中“鸟”“土地”“河流”和“黎明”的象征意义分别是什么?(4分)

18. 这首诗前后两部分的抒情方式有何不同?(4分)

19. 这首诗抒发了诗人怎样的感情?(2分)

五、现代文阅读(共25分)

20. 阅读短文,回答问题(每小题3分,共6分)

于是“香市”中主要的节目无非是“吃”和“玩”。临时的茶棚,戏法场,弄缸弄甃,走绳索,三上吊的武技班,老虎,矮子,提线戏,髦儿戏,西洋镜——将社庙前五六十亩地的大

广场挤得满满的。庙里的主人公是百草梨膏糖,花纸,各式各样泥的纸的金属的玩具,灿如繁星的“烛山”,熏得眼睛流泪的檀香烟,木拜垫上成排的磕头者。庙里庙外,人声和锣鼓声,还有孩子们手里的小喇叭、哨子的声音,混合成一片骚音,三里路外也听得见。

我幼时所见的“香市”,就是这样热闹的。在这“香市”中,我不但赏鉴了所谓“国技”,我还认识了老虎,豹,猴子,穿山甲。所以“香市”也是儿童们的狂欢节。

(1)这段文字所表达的中心思想是什么?

(2)这段文字在全文中的作用是什么?

21. 阅读短文,回答问题(每小题3分,共9分)

“我不逛,也用不着钱,我来学艺!”孙老者立起来,“我练趟给你看看,看够得上学艺不够!”一屈腰已到了院中,把楼鸽都吓飞起去。拉开架子,他打了趟查拳:腿快,手飘洒,一个飞脚起去,小辫儿飘在空中,像从天上落下来一个风筝;快之中,每个架子都摆得稳,准,利落;来回六趟,把院子满都打到,走得圆,接得紧,身子在一处,而精神贯串到四面八方。抱拳收势,身儿缩紧,好似满院的乱飞的燕子忽然归了巢。

(1)这段文字采用了什么艺术表现手法?

(2)这段文字采用了什么修辞手法?请举例说明。

(3)从这一段的描写中可以看出孙老者怎样的形象特征?

22. 阅读短文,回答问题(10分)

这里我们可以再就用兵打比譬,用兵制胜的要诀在占领要塞,击破主力。要塞既下,主力既破,其余一切就望风披靡,不攻自下。古人所以有“射人先射马,擒贼先擒王”的说法。如果虚耗兵力于无战略性的地点,等到自己的实力消耗尽了,敌人的要塞和主力还屹然未动,那还能希望打什么胜仗?做文章不能切中要害,错误正与此相同。

(1)这段话的中心论点是什么?(4分)

(2)这段议论采用了什么论证方法?(3分)

(3)文中引用杜甫“射人先射马,擒贼先擒王”的诗句,是运用什么类型的论据?(3分)

六、语言运用(每小题3分,共15分)

23. 依次填入下面句子横线处的词语最恰当的一项是_____。

人生旅途,如果太过平坦顺利,反而会在_____中虚度。正如流水,有波折才会_____美丽的浪花。至于结局,并不是最重要的,_____你享受了_____的过程。

A. 索然无味 激起 而且 精致

B. 如释重负 激扬 况且 精妙

C. 如释重负 激扬 而且 精美

D. 索然无味 激起 因为 精彩

24. 下面各项没有语病的一句是_____。

- A. 包头的夏季,绿树成行,鲜花盛开,让人感觉到不仅是生产钢铁的钢城,也是使人心旷神怡的树城、花城。
- B. “神舟”回归地,煤海书法城——如今内蒙的中西部,也与科技文化结下了难以分开的不解之缘。
- C. 寸草不生的戈壁滩,高大连绵的胡杨林,纵横起伏的大沙漠,构成了阿拉善盟独特的自然景观。
- D. 一个人能不能开创自己的光明前程,关键在于要有远大的理想,持之以恒的努力才能获得的。

25. 将下面句子组成一段连贯的话,排列顺序恰当的一项是_____。

- ①音乐作品的“深度”有不同的表现形态。
- ②西方音乐以“深刻”见长;中国音乐以“深邃”著称。
- ③大致来说,“深刻”是就作品的主题而言;“深邃”是就作品的意蕴而言。
- ④作为一门艺术,音乐也要追求“深度”。
- ⑤比较重要的表现形态通常有两种,一是“深刻”,一是“深邃”。

- A. ④⑤①②③ B. ①③②④⑤ C. ②①④⑤③ D. ④①⑤③②

26. 概括下面这则材料的主要内容,不超过 15 个字。

“在当今的信息时代,不少同学总把手机带在身边,否则就心烦意乱。当一段时间手机铃声不响,就会感到不适应。平时明知没有短信或来电,也会时不时翻出手机看一下。”中南大学文学院院长欧阳友权教授指导的课题《大学生“手机依赖症”创新研究》显示,湖南省 6 所高校 79.7% 的受访大学生手机用户出现了上述“手机依赖症状”。其中严重依赖的为 47.5%,一般依赖的为 32.3%,潜在依赖的仅为 20.2%。

主要内容:_____

27. 阅读下面文字,完成后面的问题。

“卑鄙是卑鄙者的通行证/高尚是高尚者的墓志铭”

这是北岛的诗歌《回答》中的诗句,揭示了一种不合理的社会逻辑。

调整该诗句的语序,使之反映一种更不合理的社会逻辑(不得增删或改换词语)。

七、作文(60 分)

28. 军人自有军人的情怀。“但使龙城飞将在,不教胡马度阴山”“黄沙百战穿金甲,不破楼兰终不还”,都表现了古代将士“守卫边疆、誓破强敌”的情怀。作为当代革命军人,请以“军人的情怀”为题,写一篇不少于 800 字的文章,文体不限,诗歌除外。

点 成 军 考
专业一对一军考辅导

二〇一七年军队院校生长军官招生文化科目统一考试 大专毕业生士兵专升本大学语文参考答案及评分标准

一、单项选择（每小题2分，共14分）

1. A 2. A 3. B 4. C 5. B 6. A 7. D

二、诗文名句填空（每小题1分，共6分；超过6个，按前6个判分）

8. 岂有逆胡传子孙 9. 悠悠我心 10. 三顾频频天下计
11. 逸豫可以亡身 12. 楚天千里清秋 13. 故能成其大
14. 一番洗清秋

三、文言文阅读（共20分）

15. (1) ①与：对付。 ②目：将要。 ③解：通“懈”，松懈。 ④罢：通“疲”，疲劳。（每正确解释1字得1分，满分4分）
(2) 临危不乱、胆识过人、指挥若定、勇武善射。（答对2点，即可得3分）
(3) 行为描写，如“广身自以大黄射其裨将，杀数人”；对比，如“吏士皆无人色，而广意气自如，益治军”。（3分）
16. (1) 丐：乞讨，讨饭，要饭（1分） 徐：慢慢地（1分）
(2) A. 富人生病将要死了，把所有的家财都交给了张孝基。（2分）
B. 不再有旧态，于是把他父亲所委托的财产都归还给他。（2分）
(3) 不肖。（1分）他已改过自新。（1分）
(4) C（2分）

四、诗歌阅读（共10分）

17. “鸟”象征爱国诗人自己；“土地”象征饱受侵略和蹂躏的祖国；“河流”象征人民悲愤的情绪；“黎明”象征美好而有希望的未来。（每答对1点得1分，满分4分）
18. 前一部分借鸟儿的歌唱间接抒情；（2分）
后一部分以自问自答的方式直抒胸臆。（2分）
19. 抒发了诗人对灾难深重的祖国深沉的爱。（2分）

五、现代文阅读（共25分）

20. (1) 写昔日“香市”热闹的局面以及给作者幼时留下的难忘记忆。（3分）
(2) 这段文字描写了昔日“香市”热闹的景象，与下文所描写的今日“香市”的萧条、冷清的场面形成对比，突出了作品的主题。（3分）
21. (1) 这段文字采用了白描手法。（3分）
(2) 比喻：一处是“小辫儿飘在空中，像从天空落下来一个风筝”。另一处是“抱拳收势，身儿缩紧，好似满院的乱飞的燕子忽然归了巢”。（3分）
(3) 体现出孙老者武艺高强、爱艺如命、豪爽的形象特征。（3分）

22. (1) 写文章要切中要害。(4分)
 (2) 正反对比的论证方法。(3分)
 (3) 以名人名言做理论论据。(3分)

六、语言运用（共 15 分）

23. D（3分） 24. C（3分） 25. D（3分）
 26. 大学生手机依赖症的现状。（3分）
 27. 高尚是卑鄙者的通行证/卑鄙是高尚者的墓志铭。（3分）

七、作文（60 分）

28. 评分标准

一等（60～51 分）	二等（50～41 分）	三等（40～31 分）	四等（30～0 分）
以 55 分为基准 上下浮动	以 45 分为基准 上下浮动	以 35 分为基准 上下浮动	30 分以下
文体符合要求	文体基本符合要求	文体大体符合要求	文体不符合要求
紧扣题意	符合题意	基本符合题意	严重偏离题意
中心突出	中心明确	中心不够明确	中心不明确 或文不对题
内容充实	内容较充实	内容较单薄	内容空洞
结构严谨	结构完整	结构基本完整	结构混乱或残缺
语言流畅 有表现力	语言通顺达意	语言基本通顺	语病多

说明：

- (1) 以大专一般写作水平为衡量的依据。
 (2) 各项具体标准中，以“内容”“语言”为重点。
 (3) 扣分标准：①字数不足但完篇者，先按相应等级评分，然后每少 20 个字扣 1 分。未完篇者按四等评分，不再扣字数分。②每 2 个错别字扣 1 分，重复者不计。③每 2 个标点错误扣 1 分。④字迹潦草难辨，卷面脏乱，酌扣 1~3 分。

二〇一七年军队院校生长军官招生文化科目统一考试

大专毕业生士兵专升本大学英语试题

考 生 须 知	1. 本试题共六大题, 考试时间 120 分钟, 满分 100 分。 2. 将部别、姓名、考生号分别填涂在试卷及答题卡上。 3. 所有答案均填涂在答题卡上, 填涂在试卷上的答案一律无效。 4. 考试结束后, 试卷及答题卡全部上交并分别封存。
------------------	---

一、快速阅读 (共 10 分, 每小题 1 分)

When we begin to look at marriage in the Victorian era and compare it to modern marriage we cannot eliminate all the time in between. Through time, marriage and the role of women in marriage have evolved. We will begin to examine the reasons for marriage and divorce, and of course attitudes towards women.

Why Victorian women married

There are several factors that influenced women during the Victorian age to marry. Many of these were a result of lack of choice. First we need to deal with education to understand why women married. Women were left uneducated in many areas of life. They had no control over their education and were only taught about domestic duties. Starting at a young age, they were taught that a woman should get married and have children. They were born, raised and educated to become wives and nothing else. A woman was not expected to work unless she was in the lower class and had no choice.

As a result of lack of education, women were expected to marry in order to find someone to support them, since they did not have the knowledge to do many jobs. These social and financial pressures compelled (强迫) women into getting married. Women often married someone because their parents would search for a man who would be wealthy, have a title and could advance their social status. They did not want to risk being shunned (避开) by their families by not marrying someone in a higher class. If a woman were to get engaged and break it off she would risk living the rest of her life as a spinster (老处女). This was the ultimate way to lose social position.

Change from Victorian to modern

The progression from Victorian marriage to modern marriage was a slow process. In the 1960s the sexual revolution was a time when women began to exercise their power and freedoms more publicly. At this point in history women were beginning to marry for happiness and not because of compulsion. In fact, marriages were not that picture-perfect. Women began to work more and more outside of the home, and during war time were asked to take on more of the jobs that their husbands had left behind when they went away to war. Women started the battle to begin to earn as much as men, although this is a battle that still continues today.

Laws that helped women

Beginning in the 1840s, a series of laws were passed that began to allow women in marriage to have a bit more control. With the passage in 1839 of the Infants and Child Custody (监护) Act, women were allowed to take custody of their children under the age of seven if divorced or separated. In 1857 ordinary divorce was established in England through the Divorce Act. This allowed for the court to order payments to a divorced or separated wife. The wife could inherit property and protect her wages from a husband who deserted her. As we move forward to 1870, the Married Women's Property Act allowed for women to keep their earnings and even inherit personal property and money. Everything else still belonged to her husband if she had acquired it before or after marriage. In 1883 the Custody Acts allowed for women to be awarded custody of children up to the age of 16. Slowly but surely, women were gaining control over themselves, their children and their possessions. In 1882 a woman could finally keep all personal and real property that she had got before and during her marriage.

Divorce in the modern age

Divorce, unlike during the Victorian period, is a lot more acceptable. Now when a couple gets a divorce, the woman is more likely to get the custody of her children than the man. The courts are very hesitant to take a child away from its mother except in special circumstances. Divorce is now seen as a way to get out of marriage as a result of any type of unhappiness.

Modern marriage

Women these days have a lot more control over their marriage than they used to. A woman is free to marry who she wants for the most part. She can choose to be married as well as have a career. If a woman is unable to have kids, there are many options that would help her get pregnant. Even choosing not to have kids is not looked down upon as it used to be. It is surprising how things have progressed from an era where the man had so much control of his household to a period where the couple works together to make decisions. Society does not have as much control over the lives of married couples as it had in the past. People have choices and society is usually accepting of these choices.

问题 1~7, 填写 Y (符合文章内容); N (不符合文章内容); NG (文章未提及)。

问题 8~10, 根据文章内容补全句子。

1. This passage mainly discusses the reasons for marriage, marriage and law, and the role of women.
2. In the Victorian age women were only educated to become housewives.
3. Social and financial pressures are not the main reason why Victorian women got married.
4. Victorian girls wanted to marry rich men with titles because it would help improve their social position.
5. Women began to have more power and freedom, and to marry for happiness, in the 1960s.
6. Women's battle to earn the same amount of pay as men has succeeded.
7. Laws like the Divorce Act and the Custody Acts helped women succeed in both career and family life.
8. According to the Married Women's Property Act, women have the right to inherit _____.
9. In the past, if women chose not to bear children they would be _____.
10. Surprisingly, marriage has changed from the husband controlling the household to the couple _____.

二、选择填空 (共 20 分, 每小题 1 分)

11. The brake of your bicycle has come loose. You'd better _____ it.
A. settle B. fix C. pick D. correct
12. I hope you don't mind me asking, _____ where did you buy those shoes?
A. so B. and C. yet D. but
13. Convenience foods which are already prepared for cooking are _____ in grocery stores.
A. ready B. approachable C. available D. probable
14. —Tom often has bread for breakfast, _____ he?
—Yes, he _____.
A. doesn't; has B. didn't; did C. hasn't; has D. doesn't; does
15. He will surely finish the job on time if he _____ to do it in his own way.
A. is leaving B. will leave C. leaves D. is left
16. He always did well at school _____ having to do part-time jobs every now and then.
A. in spite of B. instead of C. in case of D. in favor of
17. _____ second thoughts I'm quite content to stay for the time being.
A. To B. On C. In D. As
18. It is hard for me to imagine what I would be doing today if I _____ in love, at the age of seven, with the library in my hometown.
A. wouldn't have fallen B. should not fall
C. had not fallen D. were not to fall
19. If Tim keeps working like this, he'll _____ sooner or later.
A. break down B. give off C. get down D. hold on
20. The dentist said there wasn't _____ wrong with her teeth.
A. something B. nothing C. anything D. none
21. —Dear me! I've been in America for a month.
—_____ you are settled, why don't you take up some serious study?
A. If B. Now that C. When D. Even if
22. It was _____ great shock to the world that two airplanes crashed into _____ World Trade Center in New York on September 11, 2001.
A. a; / B. the; the C. a; the D. /; the
23. In the west, people make _____ a rule to send Christmas present to their relatives and friends.
A. this B. that C. it D. the following
24. —How can I mend it?
—Well, look at the _____, please.
A. explanations B. expressions C. instructions D. introductions
25. To my delight, I _____ from hundreds of applicants to attend the opening ceremony.
A. was chosen B. was being chosen C. would choose D. had chosen
26. Advertising is distinguished from other forms of communication _____ the advertiser pays for the message to be delivered.
A. in that B. in which C. in order that D. in the way
27. —Do you have these shoes in size eight?
—I'm not sure. I'll just go and _____ out.
A. sell B. send C. watch D. find

28. This is a purely _____ problem, not a political one.
A. additional B. advantage C. announce D. academic
29. _____, we couldn't work in the small room where there is no air conditioner.
A. Being a hot day B. It being a hot day
C. It being hot a day D. Because the day being hot
30. —I'd like to take a week's holiday.
—_____, we're too busy.
A. Don't worry B. Don't mention it C. Forget it D. Pardon me

三、阅读理解 (共 30 分, 每小题 2 分)

Passage 1

A few years ago I was shopping with a friend and his 12-year-old daughter in downtown San Francisco. A street musician, whom my friend happened to know from his own musician days, was playing the saxophone on a street corner. His name was Clifford, and he had attracted a large crowd with his performance. After he finished, my friend introduced him to me and his daughter. Clifford asked her if she played any instrument. When she replied that she was taking trumpet lessons and played in her junior high school band, he said, "That's fine, little lady. Learn your instrument well and you can play anything."

Somehow these simple yet wise words struck me as appropriate not only for a trumpet player but also for a reader. If you learn to read well, you can read anything you want—not just newspapers and magazines, but more difficult material like philosophy, criticism, military history—whatever interests you as your confidence grows. You would not be limited in any way. If you have the vocabulary or at least a good dictionary near at hand—you can pick up a book, concentrate on it, and make sense of the author's words.

In the United States, reading instruction often ends at elementary school, so students sometimes have difficulty as they progress through school. They must take their assignments armed only with their elementary school reading skills. The result, too often, is frustration and loss of confidence. And the assigned reading in your college courses will be even greater than they were in high school. Developing Reading Skills is designed to accomplish several tasks; to show you the skills that will enable you to read with greater comprehension, to help you cope with reading assignments with confidence, and to teach you to become an active reader.

31. The author develops his point by starting with _____.
A. an example B. an incident C. a statement D. a contrast
32. Which of the following statements is implied in Paragraph 1?
A. Clifford was good at playing the saxophone.
B. The author's friend was once a street musician.
C. The 12-year-old girl played the trumpet very poorly.
D. Clifford was a good music teacher.
33. "Struck... as appropriate" in Line 1, Paragraph 2 most probably means _____.
A. seemed to be appropriate B. thought to be appropriate
C. attacked to be appropriate D. found to be appropriate

34. With good reading skills, you can _____ .
- A. understand anything you read without difficulty
 - B. work out the author's meaning if only you concentrate on the book
 - C. understand what you read with the help of a good dictionary
 - D. concentrate on whatever you read
35. It can be inferred from the last paragraph that Developing Reading Skills _____ .
- A. is directed to elementary school students
 - B. centers around vocabulary building skills
 - C. offers elementary reading skills
 - D. aims at helping students read better

Passage 2

From bankers to factory staff, employees in the West face a cold prospect of losing their jobs as a global recession starts to bite. For colleagues in the East, the pain is more likely to come through a pay cut.

Human resource experts say cultural differences explain why Asian companies try harder to preserve jobs in difficult times, which will prevent unemployment and may help Asian economies survive at a time of slowing exports. The East Asian attitude may also make it easier for companies to recover quickly from the economic downturn since they will not need to rehire or train new staff, but build up a more loyal and devoted group.

"In the Confucian mindset, the right thing to do is to share the burden, which is the sense of collective responsibility. While in the West, it's more about individual survival," said Michael Benoliel, associate professor of organizational behavior at Singapore Management University (SMU).

In contrast, local Western companies from General Motors to Goldman Sachs plan to lay off workers by the thousands, but at the Asian units of Western multinationals or western units of Asian groups, job cuts will probably be less severe.

Japan's jobless rate was 4 percent in September, up from 3.8 percent in January, while Hong Kong's was flat at 3.4 percent. But US unemployment is expected to have jumped to 6.3 percent last month from below 5 percent in January.

Experts say that while there are noticeable differences in labor practices in East and West, the gap will narrow as more firms become more multinational and competition forces firms to adopt the best practices of rivals from abroad.

36. The underlined word "prospect" in the first paragraph most probably means _____ .
- A. weather
 - B. scene
 - C. future
 - D. place
37. Compared with job cuts, pay cuts can bring the following benefits EXCEPT that _____ .
- A. it's helpful to the economy recovery
 - B. it costs the company less money to survive
 - C. it will keep the experienced and skilled workers
 - D. it can form a team working harder and more loyally

38. According to Michael Benoliel, the Confucian mindset focuses on _____.
 A. human rights B. sharing responsibility
 C. personal profits D. individual survival
39. In which company can we infer the job cuts will be probably the most severe?
 A. A local American group.
 B. A small Japanese company.
 C. A German branch of a Korean multinational.
 D. A Hong Kong's unit of a French company.
40. The passage mainly tells us _____.
 A. the difficulties all the companies around the world will meet with today
 B. the cultural differences between Eastern and Western world at present
 C. the ways to cut down the cost of the companies in economic downturn
 D. the different labor solutions of Asian and Western in global recession

Passage 3

It's one of our common beliefs that mice are afraid of cats. Scientists have long known that even if a mouse has never seen a cat before, it is still able to detect chemical signals released from it and run away in fear. This has always been thought to be something that is hard-wired into a mouse's brain. But recently Wendy Ingram, a graduate student at the University of California, Berkeley, has challenged this common sense. She has found a way to "cure" mice of their inborn fear of cats by infecting them with a parasite (寄生虫), reported the science journal Nature.

The parasite, called *Toxoplasma gondii*, might sound unfamiliar to you, but the shocking fact is that up to one-third of people around the world are infected by it. This parasite can cause different diseases among humans, especially pregnant women—it is linked to blindness and the death of unborn babies.

However, the parasite's effects on mice are unique. Ingram and her team measured how mice reacted to a cat's urine before and after it was infected by the parasite. They noted that normal mice stayed far away from the urine while mice that were infected with the parasite walked freely around the test area.

But that's not all. The parasite was found to be more powerful than originally thought—even after researchers cured the mice of the infection, they no longer reacted with fear to a cat's smell, which could indicate that the infection has caused an everlasting change in mice's brains.

Why does a parasite change a mouse's brain instead of making it sick like it does to humans? The answer lies in evolution.

"It's exciting and scary to know how a parasite can run a mouse's brain this way," Ingram said. But she also finds it inspiring. "Typically if you have a bacterial infection, you go to a doctor and take antibiotics and the infection is cleared and you expect all the symptoms to also go away." She said, but this study has proven that wrong. "This may have huge implications for infectious disease medicine."

41. The passage is mainly about, _____.
 A. mice's inborn terror of cats
 B. the evolution of *Toxoplasma gondii*
 C. a new study about the effects of a parasite on mice
 D. a harmful parasite called *Toxoplasma gondii*

42. The underlined part “hard-wired” in Paragraph 1 probably means _____.
A. deeply rooted B. quickly changed
C. closely linked D. deeply buried
43. The experiment found that mice infected with *Toxoplasma gondii* _____.
A. stayed far away from cat’s urine
B. moved around the area freely and fearlessly
C. became more sensitive to a cat’s smell
D. were more afraid of cats
44. Which of the following statements is true according to the passage?
A. *Toxoplasma gondii* causes all people to develop strange and deadly disease.
B. With certain infections, the infectious disease cannot be cured completely.
C. Human beings infected by *Toxoplasma gondii* will have everlasting brain damage.
D. *Toxoplasma gondii* is harmful to human beings, but it does no harm to mice.
45. The author’s attitude towards the experiment is _____.
A. positive B. subjective C. negative D. objective

Teachers need to be aware of the emotional, intellectual, and physical changes that young adults experience. They also need to give serious 46 to how they can best accommodate such changes. Growing bodies need movement and 47, but not just in ways that emphasize competition. Because they are adjusting to their new bodies and a whole host of new intellectual and emotional challenges, teenagers are especially self-conscious and need the 48 that comes from achieving success and knowing that their accomplishment are 49 by others. However, the typical teenage lifestyle is already filled with so much competition that it would be 50 to plan activities in which there are more winners than losers, for example, publishing newsletters with many student-written book reviews, 51 student artwork, and sponsoring book discussion clubs. A variety of small clubs can provide 52 opportunities for leadership, as well as for practice in successful 53 dynamics. Making friends is extremely important to teenagers, and many 54 students need the security of some kind of organization with a supportive adult barely visible in the background.

- | | | | |
|------------------------|-------------------|-----------------|----------------------|
| 46. A. thought | B. idea | C. opinion | D. advice |
| 47. A. care | B. nutrition | C. exercise | D. leisure |
| 48. A. assistance | B. guidance | C. confidence | D. tolerance |
| 49. A. claimed | B. admired | C. ignored | D. surpassed |
| 50. A. improper | B. risky | C. fair | D. wise |
| 51. A. displaying | B. describing | C. creating | D. exchanging |
| 52. A. few | B. excessive | C. expensive | D. multiple |
| 53. A. group | B. individual | C. personnel | D. corporation |
| 54. A. wild | B. shy | C. outgoing | D. friendly |
| 55. A. similar | B. long | C. different | D. short |
| 56. A. if only | B. now that | C. so that | D. even if |
| 57. A. everything | B. anything | C. nothing | D. something |
| 58. A. off | B. down | C. out | D. alone |
| 59. A. On the contrary | B. On the average | C. On the whole | D. On the other hand |
| 60. A. making | B. standing | C. planning | D. taking |

五、翻译 (共 15 分, 每小题 3 分)

61. 陈大夫整个晚上都在为伤员做手术。
62. 我记得以前在电视上见过他, 但我不能肯定。
63. 汤姆失业了, 不是因为他年岁过大, 而是因为他懒惰。
64. 我期待着再次见到他, 因为我们已整整十年没见面了。
65. 这些士兵接受了严格的训练, 并且对完成这项新任务有充分的准备。

六、书面写作 (共 10 分)

66. 请以 “**Shopping Online**” 为题, 写一篇不少于 120 词的英语短文, 内容主要包括: 近年来社会上出现网上购物热; 人们对此现象有不同反应; 你对此现象的看法。

二〇一七年军队院校生长军官招生文化科目统一考试

大专毕业生士兵专升本大学英语试题参考答案及评分标准

一、快速阅读（共 10 分，每小题 1 分）

1. N 2. Y 3. N 4. Y 5. Y
6. N 7. NG
8. personal property and money 9. looked down upon
10. making decisions together/working together to make decisions

二、选择填空（共 20 分，每小题 1 分）

11. B 12. D 13. C 14. D 15. D
16. A 17. B 18. C 19. A 20. C
21. B 22. C 23. C 24. A 25. A
26. A 27. D 28. D 29. B 30. C

三、阅读理解（共 30 分，每小题 2 分）

31. B 32. A 33. A 34. C 35. D
36. C 37. B 38. B 39. A 40. D
41. C 42. A 43. B 44. B 45. D

四、完形填空（共 15 分，每小题 1 分）

46. A 47. C 48. C 49. B 50. D
51. A 52. D 53. A 54. B 55. D
56. C 57. D 58. B 59. A 60. C

五、翻译 (共 15 分, 每小题 3 分)

61. Doctor Chen/Dr Chen went on operating on wounded soldiers through the night.
62. I remember seeing him on TV before, but I am not sure.
63. Tom is out of job not because of his old age but because of his laziness.
64. I am looking forward to seeing him again, for it has been ten years since we last met.
65. These soldiers have received very strict training and are well equipped to fulfill the new task as well.

六、书面写作 (共 10 分)

66.

Shopping Online

With the development of the Internet, online shopping has become popular in people's daily life. Staying at home, people may just look for whatever they want and pay online only by clicking the mouse. Then one or two days later, the goods will be delivered at their front door.

As for this fashionable way of shopping, people have various opinions. Some people think that online shopping can save time and energy. People can shop whenever they like just with a computer accessible to the Internet. Besides, they find it very convenient to compare the prices of the same item online, just by shifting among different web pages.

However, some others think differently. They contend one of the potential risks is that consumers might not get the exact product they want because the information provided online might not be sufficient or reliable.

In my viewpoint, shopping online is convenient and accepted by most people. We can follow the trend as long as we are careful when deciding which item to buy and which company to trust.

大专毕业生士兵专升本科科学知识综合试题

考生须知	<ol style="list-style-type: none"> 1. 本试题分高等数学、物理、化学、历史、地理五部分，考试时间 150 分钟，满分为 150 分（高等数学 50 分，物理 25 分，化学 25 分，历史 25 分，地理 25 分）。 2. 将部别、姓名、考生号分别填涂在试卷及答题卡上。 3. 所有答案均填涂在答题卡上，填涂在试卷上的答案一律无效。 4. 考试结束后，试卷及答题卡全部上交并分别封存。
------	---

第一部分 高等数学

一、单项选择 (每小题 4 分, 共 20 分)

1. 设函数 $f(x)$ 的定义域是 $[-2, 2]$, 则 $f(\log_3 x)$ 的定义域是_____.

A. $[-\frac{1}{4}, 0) \cup (0, 4]$

B. $[\frac{1}{4}, 4]$

c. $[-\frac{1}{2}, 0) \cup (0, 2]$

D. $[\frac{1}{2}, 2]$

2. 极限 $\lim_{x \rightarrow \infty} \left(\frac{x+2}{x-2} \right)^x =$ _____.

$A. e^{-4}$

$$B. e^{-2}$$

C. 1

D. e^4

3. 当 $x \rightarrow 0$ 时, 下列 是其他三个的高阶无穷小.

A. $x - \tan x$

B. $1 - \cos x$

$C. x^2$

D. $\ln(1 + x^2)$

4. 设 $f(x) = \begin{cases} \frac{1 - e^{-x^2}}{x}, & x \neq 0 \\ 0, & x = 0 \end{cases}$, 则 $f'(0)$ 为_____.

A. 0

B. $\frac{1}{2}$

C. 1

D. -1

5. 设 $\int f(x) dx = x^2 + C$, 则 $\int xf(1-x^2) dx = \underline{\hspace{2cm}}$.

A. $-2(1-x^2)^2 + C$

B. $2(1 - x^2)^2 + C$

C. $-\frac{1}{2}(1-x^2)^2 + C$

D. $\frac{1}{2}(1 - x^2)^2 + C$

二、填空题 (每小题 2 分, 共 10 分)

6. 设函数 $y = x - \frac{1}{2}\sin x$, 则 $\frac{dy}{dx} =$ _____.

7. $\int \frac{dx}{x^2 - 4x + 3} =$ _____.

8. 微分方程 $\frac{dy}{dx} + xy = 0$ 的通解为 _____.

9. 如果 $f'(2) = \frac{2}{3}$, 则 $\lim_{x \rightarrow 0} \frac{f(2-3x) - f(2)}{x} =$ _____.

10. 点 $(0, 1)$ 是曲线 $y = x^3 + bx^2 + c$ 的拐点, 则 $b =$ _____, $c =$ _____.

三、计算题 (每小题 6 分, 共 12 分)

11. 设 $y = \frac{(x+1)^2(x+2)^3}{\sqrt{x+3}(x+4)}$, 求 y' .

12. 求函数 $f(x) = \int_{\frac{1}{2}}^x \ln t dt$ 的极值点与极值.

四、证明题 (本题 8 分)

13. 证明: 当 $x \geq 0$ 时, $x \geq \arctan x$.

第二部分 物 理

一、单项选择题 (每小题 3 分, 共 15 分)

14. 某理想气体系统经准静态等压膨胀过程, 下列叙述正确的是_____.

A. 系统对外做正功, 系统内能增加
B. 外界对系统做正功, 系统内能增加
C. 系统对外做正功, 系统内能减少
D. 外界对系统做正功, 系统内能减少

15. 如图 1 所示的 $v-t$ 图像是某观光电梯在某一段时间内速度变化的情况, 向上为正方向. 站在电梯上的人相对电梯静止, 根据图像提供的信息, 可以判断下列说法中正确的是_____.

A. 在 $0 \sim 5\text{s}$ 内, 人处于失重状态
B. 在 $5 \sim 10\text{s}$ 内, 人对电梯的压力大小等于他所受的重力大小
C. 在 $10 \sim 20\text{s}$ 内, 人处于超重状态
D. 在 $20 \sim 25\text{s}$ 内, 人处于超重状态

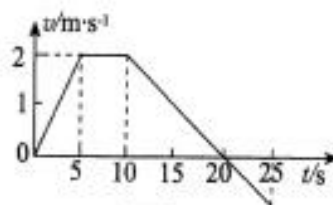


图 1

16. 空间存在竖直向上的匀强电场, 质量为 m 的带正电的微粒水平射入电场中, 微粒的运动轨迹如图 2 所示, 在相等的时间间隔内_____.

A. 重力做的功相等
B. 电场力做的功相等
C. 电场力做的功大于重力做的功
D. 电场力做的功小于重力做的功

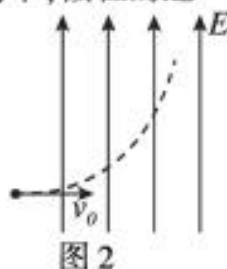


图 2

17. 下列叙述正确的是_____.

A. 一定质量的气体温度越高, 则分子的平均动能越大
B. 布朗运动就是液体分子的热运动
C. 分子间只存在引力
D. 物体的温度升高时, 其内部每个分子的热运动速率都一定增大

18. 在地球大气层外有很多太空垃圾绕地球转动, 可视为绕地球做匀速圆周运动. 每到太阳活动期, 由于受太阳的影响, 地球大气层的厚度增加, 从而使得某些太空垃圾进入稀薄大气层, 运动半径开始逐渐变小, 但每一周可视为匀速圆周运动. 若在这个过程中某块太空垃圾质量能保持不变, 则这块太空垃圾的_____.

A. 线速度逐渐变小
B. 加速度逐渐变小
C. 运动周期逐渐变小
D. 机械能逐渐变大

二、填空题 (每空 2 分, 共 10 分)

19. 抛出的手雷在最高点时水平速度为 20m/s , 这时突然炸成两块, 其中大块质量 300g , 仍按原方向飞行, 其速度大小为 100m/s ; 另一块质量为 200g , 则它的速度大小为_____, 方向为_____.

20. 有三个完全一样的金属小球 A 、 B 、 C , A 带电 $7Q$, B 带电 $-Q$, C 不带电, 将 A 、 B 固定起来, 然后让 C 球反复与 A 、 B 球接触, 最后移去 C 球. 小球可视为点电荷. 试问 A 、 B 间的电场力为原来的_____倍.

21. 如图 3 所示, 平行板电容器两极板间为真空. 令两极板正对面积为 S , 两极板间距为 d . 若增大两极板间距 d , 则平行板电容器的电容_____ (填增大、减小或不变); 若减小两极板正对面积 S , 则平行板电容器的电容_____ (填增大、减小或不变).

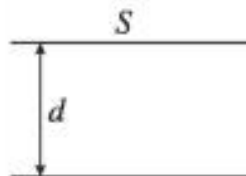


图 3

第三部分 化 学

相对原子质量: H: 1 C: 12 N: 14 O: 16 S: 32 Cl: 35.5

一、单项选择题 (每小题 2 分, 共 10 分)

22. 下列物质分类错误的是_____。

- A. 同素异形体: 活性炭、 C_{60} 、石墨烯、金刚石 B. 混合物: 铝热剂、液氨、漂白粉、矿泉水
C. 化合物: 干冰、生石灰、小苏打、烧碱 D. 有机物: 乙醇、葡萄糖、淀粉、甲烷

23. 常温下, 物质的量相同的水和氮气, 一定具有相同的_____。

- A. 体积 B. 原子数 C. 分子数 D. 质量

24. 下列气体中, 能够采用实验室制备 H_2 的实验装置进行制备的是_____。

- A. O_2 B. NH_3 C. Cl_2 D. CO_2

25. 下列说法可以证明 $H_2(g) + I_2(g) \rightleftharpoons 2HI(g)$ 已达到平衡状态的有_____。

- ①单位时间内生成 $n \text{ mol } H_2$ 的同时, 生成 $n \text{ mol HI}$
②一个 $H-H$ 键断裂的同时有两个 $H-I$ 键断裂

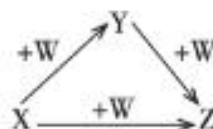
③反应速率 $v(H_2) = v(I_2) = \frac{1}{2}v(HI)$

④浓度 $c(HI): c(H_2): c(I_2) = 2: 1: 1$

⑤温度和体积一定时, HI 的浓度不再发生变化

- A. ①②③ B. ②⑤ C. ①③④ D. ④⑤

26. X 、 Y 、 Z 、 W 有如图所示转化关系 (已略去反应条件和部分产物) 则 X 、 Y 可能是_____。



- ① C 、 CO ② S 、 SO_2 ③ N_2 、 NO ④ $AlCl_3$ 、 $Al(OH)_3$

- A. ①② B. ②③ C. ③④ D. ①④

二、填空题 (每空 3 分, 共 15 分)

27. 潜艇中使用过氧化钠提供氧气和吸收二氧化碳, 这一过程的化学反应方程式为_____。

28. 工业上制取单质硅的化学反应方程式为 $SiO_2 + 2C \xrightarrow{\text{高温}} Si + 2CO \uparrow$, 该反应中氧化剂为_____ (用化学式填写), 还原产物为_____ (用化学式填写)。

29. 某二价金属氧化物中, 金属元素与氧元素的质量比为 5: 2, 则该氧化物的最小相对分子质量应该为_____。

30. 往澄清石灰水中通入过量 CO_2 气体, 可获得一无色透明溶液, 能描述这一反应过程的离子方程式为_____。

第四部分 历史

一、单项选择题(每小题3分,共15分)

31. 2011年9月,日本野田新内阁大臣公开称钓鱼岛为日本固有领土,而中国政府则将钓鱼岛主权定义为中国核心利益。中日钓鱼岛主权之争源于哪一条约内容_____。
- A.《南京条约》
B.《马关条约》
C.《北京条约》
D.《辛丑条约》
32. 1954年《宪法》与1949年《共同纲领》的根本不同是_____。
- A. 国家的政体
B. 公民的基本权利和义务
C. 体现的原则
D. 表现的阶级属性
33. 十一届三中全会以后,我国城乡经济体制改革的实质是_____。
- A. 改革社会主义的生产关系
B. 发展社会主义生产力
C. 扩大生产的经营自主权
D. 增强农村和城市经济活力
34. 我国社会主义市场经济体系基本建立是在_____。
- A. 20世纪80年代
B. 20世纪90年代
C. 20世纪90年代末
D. 21世纪初
35. 改革开放以来,海峡两岸的发展趋势是_____。
- A. 政冷经热
B. 经冷政热
C. 不冷不热
D. 求同存异

二、填空题(每空2分,共10分)

36. _____党的十一届三中全会在北京召开。
37. 由于全民族抗战,_____15日,日本宣布无条件投降,中国百余年来首次取得反侵略战争完全胜利,增强了中国人民的民族自尊心和自信心。
38. 1945年8月至10月,国共两党签订_____,其内容为:和平建国,坚决避免内战,召开政协会议,保证人民权利;_____年6月,蒋介石撕毁了协议,国民党军队大举进攻中原解放区,全面内战爆发。
39. 1901年签订_____,清朝廷堕落为“洋人的朝廷”。清政府成为帝国主义统治中国的工具,中国完全陷入半殖民地半封建社会。

第五部分 地 理

一、单项选择（每小题2分，共10分）

40. 我国省级行政区域共有_____个。

- A. 29 B. 32 C. 33 D. 34

41. 下列不属于气象灾害的是_____。

- A. 寒潮 B. 地震 C. 干旱 D. 台风

42. 在等高线地形图上，某地等高线的弯曲部分向高处凸出，可以判断该地属于_____。

- A. 山谷 B. 山脊 C. 陡崖 D. 山峰

43. 全球陆地共分为七个大洲，其中北美洲和南美洲的分界线是_____。

- A. 苏伊士运河 B. 土耳其海峡 C. 马六甲海峡 D. 巴拿马运河

44. 自然环境对人们饮食的影响是多方面的，下面属于典型的北方风味食品是_____。

- A. 米粉 B. 拉面 C. 年糕 D. 汤圆

二、填空题（每空3分，共15分）

45. 被称为“九省通衢”之地的省会城市是_____。

46. 世界上最大的一片热带雨林气候区分布在南美洲的_____河流域。

47. 我国气候的主要特征是_____。

48. _____、陕西、内蒙古接壤的地区分布着世界罕见的超大煤田，被誉为“乌金三角”，是我国最重要的能源基地。

49. 我国可分为四大地理区域，包括北方地区、南方地区、西北地区和_____地区。

二〇一七年军队院校生长军官招生文化科目统一考试

大专毕业生士兵专升本科科学综合试题参考答案及评分标准

第一部分 高等数学试题参考答案及评分标准

一. 单项选择题 (每小题 4 分, 共 20 分)

1. B; 2. D; 3. A; 4. C; 5. C.

二. 填空题 (每小题 2 分, 共 10 分)

6. $1 - \frac{1}{2}\cos x$; 7. $\frac{1}{2}\ln\left|\frac{x-3}{x-1}\right| + C$; 8. $y = Ce^{-\frac{x}{2}}$;

9. -2; 10. 0, 1

三. 计算题 (每小题 6 分, 共 12 分)

11. 解: 所给问题属于连乘除形式函数的求导问题, 适用于对数求导法. 由对数性质可知

$$\ln y = 2\ln(x+1) + 3\ln(x+2) - \frac{1}{2}\ln(x+3) - \ln(x+4), \dots\dots\dots (2 \text{ 分})$$

将上式两端分别关于 x 求导, 可得

$$\frac{y'}{y} = \frac{2}{x+1} + \frac{3}{x+2} - \frac{1}{2(x+3)} - \frac{1}{x+4}, \dots\dots\dots (4 \text{ 分})$$

$$\text{故 } y' = \frac{(x+1)^2(x+2)^3}{\sqrt{x+3}(x+4)} \left[\frac{2}{x+1} + \frac{3}{x+2} - \frac{1}{2(x+3)} - \frac{1}{x+4} \right], \dots\dots\dots (6 \text{ 分})$$

12. 解: $f(x)$ 的定义域为 $(0, +\infty)$, 可得 $f'(x) = \ln x \dots\dots\dots (2 \text{ 分})$

令 $f'(x) = 0$, 得 $x = 1$. $\dots\dots\dots (3 \text{ 分})$

$$\text{又 } f''(x) = \frac{1}{x}, f''(1) = 1 > 0, \dots\dots\dots (4 \text{ 分})$$

可知 $x = 1$ 为 $f(x)$ 的极小值点, 极小值为

$$\int_{\frac{1}{2}}^1 \ln t dt = t \ln t \Big|_{\frac{1}{2}}^1 - \int_{\frac{1}{2}}^1 dt = \frac{1}{2}(\ln 2 - 1). \dots\dots\dots (6 \text{ 分})$$

四. 证明题(本题 8 分)

13. 证明:令 $f(x) = x - \arctan x$, 则 (2 分)

$$f'(x) = 1 - \frac{1}{1+x^2} = \frac{x^2}{1+x^2} \geq 0, \text{ (5 分)}$$

从而知 $y = f(x)$ 为单调递增函数. 由于 $f(0) = 0$, 可知当 $x \geq 0$ 时有 $f(x) \geq f(0)$, 故当 $x \geq 0$ 时有 $x \geq \arctan x$ (8 分)

点 成 军 考
专业一对一军考辅导

第二部分 物理试题参考答案及评分标准

一、单项选择题（每小题3分，共15分）

14. A 15. B 16. C 17. A 18. C

二、填空题（每空2分，共10分）

19. 100m/s；与原手雷的飞行方向相反（或与爆炸后大块质量的速度方向相反）

20. $\frac{4}{7}$

21. 减小，减小

第三部分 化学试题参考答案及评分标准

评分注意事项：

1. 本答案供阅卷评分使用，考生若写出其它正确答案，可参照评分标准给分。
2. 化学专用名词中出现错别字、化学式有错误，应酌情扣分。
3. 各类化学方程式（如离子方程式、电离方程式、水解方程式等）中物质的种类、组成和化学式书写正确的，可酌情给分；在此基础上，化学方程式未配平的应酌情扣分。

一、单项选择题（每小题2分，共10分）

22. B 23. C 24. D 25. B 26. D

二、填空题（每空3分，共15分）

27. $2\text{Na}_2\text{O}_2 + 2\text{CO}_2 = 2\text{Na}_2\text{CO}_3 + \text{O}_2$

28. SiO_2 , Si

29. 56

30. $\text{OH}^- + \text{CO}_2 (\text{过量}) = \text{HCO}_3^-$

第四部分 历史试题参考答案及评分标准

一、单项选择题（每小题3分，共15分）

31. B 32. C 33. A 34. B 35. D

二、填空题（每空2分，共10分）

36. 1978年12月 37. 1945年8月 38. 《双十协议》；1946年
39. 《辛丑条约》

第五部分 地理试题参考答案及评分标准

一、单项选择题（每小题2分，共10分）

40. D 41. B 42. A 43. D 44. B

二、填空题（每空3分，共15分）

45. 武汉
46. 亚马逊（或亚马孙）
47. 气候复杂多样，季风气候显著，大陆性强（写对一项，得1分）
48. 山西
49. 青藏

二〇一七年军队院校生长军官招生文化科目统一考试

大专毕业生士兵专升本军政基础综合试题

考生须知

1. 本试题分军事知识、政工基本知识两部分，考试时间 150 分钟，满分为 200 分（军事知识 120 分，政工基本知识 80 分）。
2. 将部别、姓名、考生号分别填涂在试卷及答题卡上。
3. 所有答案均填涂在答题卡上，填涂在试卷上的答案一律无效。
4. 考试结束后，试卷及答题卡全部上交并分别封存。

第一部分 军事知识

一、单项选择（每小题 2 分，共 80 分）

1. 中国现存最早的军事名著是_____。
A. 《吴子》 B. 《尉繚子》 C. 《孙子兵法》 D. 《司马法》
2. 第一次深刻阐述了战争的实质和战争与政治关系的理论著作是_____。
A. 《战争艺术》 B. 《战争论》
C. 《君主论》 D. 《制胜的科学》
3. 土地革命战争中期，毛泽东同志的三篇文章标志着农村包围城市的理论初步形成。这三篇文章不包括_____。
A. 《湖南农民运动考察报告》 B. 《中国的红色政权为什么能够存在》
C. 《井冈山的斗争》 D. 《星星之火，可以燎原》
4. _____是中国传统思想文化中自然哲学与伦理实践的根源。
A. 《论语》 B. 《周易》 C. 《孟子》 D. 《老子》
5. 抗日战争时期，以八路军_____为代表的抗日军民在南泥湾大生产运动中创造了“南泥湾精神”。
A. 343 旅 B. 358 旅 C. 359 旅 D. 385 旅
6. 孙武在将帅的选拔和任用上提出的五条德才标准不包括_____。
A. 忠 B. 信 C. 仁 D. 智
7. 中国古代第一部军制通史是_____。
A. 《武经总要》 B. 《历代兵制》 C. 《军志》 D. 《史记》

8. 美国国家安全委员会, 由总统任委员会主席, 日常事务由_____主持。
- A. 参联会主席 B. 国防部长
C. 国务卿 D. 总统国家安全事务助理
9. 在本次深化国防和军队改革中, 我军组建了陆军领导机构, 成立了火箭军和_____。
- A. 电子对抗部队 B. 战略支援部队
C. 空天部队 D. 导弹部队
10. 现任联合国秘书长古特雷斯是_____人。
- A. 西班牙 B. 葡萄牙 C. 新西兰 D. 丹麦
11. 印度宪法规定, 军官_____。
- A. 有参与议会党团活动的自由
B. 必须参与议会党团活动
C. 可参与议会党团活动, 但有比例限制
D. 不得参与议会党团活动
12. 1927 年 12 月广州起义任总指挥的是_____。
- A. 张太雷 B. 叶挺 C. 叶剑英 D. 徐光英
13. 《尉繚子》提出“武为表, 文为里”的战争观。其中“文”主要是指_____。
- A. 和平 B. 文化 C. 道义 D. 政治
14. 第二次世界大战的同盟国不包括_____。
- A. 美国 B. 英国 C. 苏联 D. 意大利
15. 实行人民战争的政治基础是_____。
- A. 阶级性 B. 持久性 C. 革命性 D. 正义性
16. “七七事变”又称_____。
- A. 西安事变 B. 卢沟桥事变 C. 皖南事变 D. 晋西事变
17. 提出“天时不如地利, 地利不如人和”观点的是我国古代的_____。
- A. 孟子 B. 孔子 C. 孙子 D. 老子
18. 从 1950 年 10 月至 1951 年 6 月, 中国人民志愿军和朝鲜人民军在朝鲜连续进行了_____大规模战役, 从根本上扭转了朝鲜战局。
- A. 三次 B. 四次 C. 五次 D. 六次
19. 1955 年授予中国人民解放军大将军衔的是_____。
- A. 许世友 B. 杨得志 C. 王震 D. 谭政
20. 1982 年 4 月爆发的“马岛战争”是_____因岛屿归属问题进行的战争。
- A. 英国与巴西 B. 英国与阿根廷 C. 法国与巴西 D. 法国与阿根廷

21. _____能识别用于伪装的砍伐植物。
- A. 可见光侦察 B. 雷达侦察 C. 多光谱侦察 D. 声学侦察
22. 为掩护目标,使用角反射器设置假目标。这种电子干扰方式属于_____。
- A. 有源压制性干扰 B. 无源压制性干扰
C. 有源欺骗性干扰 D. 无源欺骗性干扰
23. 根据生物战剂对人的危害程度,可分为致死性战剂和失能性战剂。下列选项属于失能性战剂的是_____。
- A. 炭疽杆菌 B. 天花病毒 C. 霍乱弧菌 D. 布鲁氏杆菌
24. 计算机网络战技术主要包括计算机网络战侦察技术、计算机网络攻击技术、计算机网络防御技术。下列选项不属于计算机网络战侦察技术的是_____。
- A. 信息截获技术 B. 访问控制技术 C. 漏洞探测技术 D. 端口扫描技术
25. _____不属于战术激光武器。
- A. 战术强激光武器 B. 反卫星激光武器
C. 激光致盲武器 D. 光电对抗激光武器
26. 陆军炮兵由压制炮兵、反坦克炮兵等组成。下列选项属于压制炮兵范畴的是_____。
- A. 迫榴炮 B. 突击炮 C. 滑膛炮 D. 无座力炮
27. 海军潜艇部队按作战任务可分为战略导弹潜艇部队和_____。
- A. 核动力潜艇部队 B. 常规动力潜艇部队
C. 战役战术潜艇部队 D. 攻击潜艇部队
28. _____主要以低空、超低空方式遂行攻击地面、水面目标任务。
- A. 歼击航空兵 B. 强击航空兵 C. 歼击轰炸航空兵 D. 轰炸航空兵
29. 1991年海湾战争中,伊拉克曾使用“侯赛因”导弹袭击以色列和美国兵营。“侯赛因”导弹属于_____。
- A. 近程导弹 B. 战略导弹 C. 巡航导弹 D. 空地导弹
30. 《中华人民共和国军事设施保护法》将军事设施划为军事禁区、_____等。
- A. 军事管理区 B. 军事安全区 C. 军事保护区 D. 军事警戒区
31. 台湾岛南北长,东西短,形如纺锤,自东而西由四列平行山脉组成,分别是_____。
- A. 阿里山脉、雪山—玉山山脉、海岸山脉、中央山脉
B. 海岸山脉、中央山脉、雪山—玉山山脉、阿里山脉
C. 海岸山脉、雪山—玉山山脉、中央山脉、阿里山脉
D. 阿里山脉、中央山脉、雪山—玉山山脉、海岸山脉

32. 朝核问题“六方会谈”中的六方分别是_____。
- A. 美、日、韩、中、俄、朝 B. 中、美、英、俄、朝、韩
C. 美、英、韩、德、中、朝 D. 中、美、德、俄、韩、朝
33. 在上合组织框架内的“和平使命”联合反恐军事演习有效震慑了“三股势力”，维护了地区和平与稳定。下列不属于“三股势力”的是_____。
- A. 分裂主义 B. 恐怖主义 C. 极端主义 D. 宗教主义
34. _____是连接欧、亚、非三洲海上交通要冲，扼太平洋与印度洋之海上航运咽喉，有“两洋战略走廊”之称。
- A. 巴斯海峡 B. 马六甲海峡 C. 宗谷海峡 D. 白令海峡
35. 第7舰队是太平洋舰队的战略第一梯队，是美国海军的主要作战舰队之一，旗舰为（ ）号两栖指挥舰，任务区域为（ ）海域。_____
- A. “蓝岭” 西太平洋和印度洋
B. “科罗拉多” 西太平洋和印度洋
C. “科罗拉多” 西太平洋、印度洋和大洋洲
D. “蓝岭” 西太平洋、印度洋和大洋洲
36. 军人宣誓，是军人对自己肩负的神圣职责和光荣使命的承诺和保证。宣誓的时间应不迟于入伍（入校）后_____日。
- A. 30 B. 60 C. 90 D. 100
37. 海图按用图目的和投影范围大小的不同，采用不同的投影方法，其中_____适用于面积较大的海上用图。
- A. 高斯—克吕格投影 B. 墨卡托投影
C. 日晷投影 D. 克拉索夫斯基投影
38. 长山群岛位于下列哪一片海区？_____
- A. 黄海 B. 东海 C. 渤海 D. 南海
39. 我国的地形图通常采用高斯—克吕格投影，为保证用图精度，规定当地形图比例尺大于_____时，采用经差 3° 分带。
- A. 1:50万 B. 1:25万 C. 1:5万 D. 1:2.5万
40. 下列关于毗连区表述错误的是_____。
- A. 毗连区不属于沿海国主权的范围，沿海国只是为有限的目的行使某些必要管制
B. 毗连区是国家管辖的海域，其管制区域也包括毗连区上空空域
C. 《中华人民共和国领海及毗连区法》规定，中国毗连区的宽度为12海里
D. 在毗连区内，若外国船舶违反毗连区管制的有关法律、法规，可对该外国船舶行使紧追权

二、材料分析题（仔细阅读给定材料，按要求作答。每小题 20 分，共 40 分）

给定材料一：

以色列人口不足 900 万，面积仅为 2.5 万平方千米，却跻身于世界公认的高科技大国之列。人们眼中的“弹丸小国”何以成为中东科技霸主？个中究竟有何秘诀？

在圣经故事中被描绘为“流淌着奶和蜜”的以色列，实际上资源贫乏、气候干旱，是个名副其实的小国，其中三分之二的国土还是荒漠，可耕地不足 20%。自然资源匮乏，使得以色列人有着强烈的短缺意识，迫使他们发明创造。于是，以色列人发明了全球闻名的滴灌技术，让沙漠变成了沃土。

以色列三面被劲敌国家包围，战争频频爆发，险恶的生存环境造就了以色列人强烈的忧患意识，出于安家固国的本能，地理上“瘦小”的以色列发展成为军事上的“巨人”。从超音速飞机、中型坦克、作战舰艇到反舰导弹，从电子战设备到各式雷达，以色列的军事力量在中东地区可谓独领风骚。随着军事工业成为国民经济的支柱产业，以色列的军事科技也毫无疑问地走在了世界前列。

以色列前总统佩雷斯曾说过，在以色列这样的国家，不靠天、不靠地，就是靠科技。“科技立国”的国策是打造以色列创新能力的基石。无论经济周期如何起伏，历届以色列政府都不惜在研发领域长期投入巨额资金。以色列社会对创新甚至创新所带来的失败都高度宽容和支持。佩雷斯直接把“提出新观点的权利、寻求大胆解决问题的权利”定义为人类自由的重要组成部分。这意味着，政府鼓励高科技企业冒险，失败的成本由政府承担。

此外，以色列政府实行高度发达的全民教育体系，在以色列所有国民中，高达 45% 的人口受过高等教育。国外犹太人才，特别是上世纪 90 年代苏联犹太移民的回归，让以色列拥有得天独厚的人才优势。在以色列，从事研发的科学家和工程师在劳动力人口中的比例是世界上最高的。其中，25% 的劳动力在技术行业工作；科技人员数量占全国人口 6%，每万人中科学家和工程师的数量就有 145 人，比例居世界第一。

以色列军队也是锻造人才的熔炉。以色列实行强制服兵役制度，年满 18 岁的男性公民均需在军队服役 3 年，女性公民需服役 20 个月，以色列军队（尤其是情报、电子战、网络安全部队）重视网络科技，为服役的青年人提供了许多数字信息化的培训。以色列很多创业公司的创始人都有在国防军从事情报、网络安全工作的经历。

除了培养本国人才，以色列也高度重视引进国外人才。以色列创新局近日发布了“创新签证”计划，为来自以色列以外的创业者提供在以居住以及工作的支持。创业者在以色列的两年期间可获得创新局 Tnufa 项目的支持，该计划致力于在种子期为创业者的好创意提供帮助。创业者来到以色列之后，能够在该计划框架之下利用以色列的技术设施、商业系统以及工作空间资源。若创业者能在以色列初创企业，则能在征得创新局同意后获得长达 5 年的以色列创业“专家签证”。

41. 根据上述材料，你认为以色列为何能成为中东科技霸主？对我们有哪些启示？（要求：概括归纳，观点明确，条理清晰；300 字以上）

给定材料二：

某旅军事科目考核结束了。宣布考核结果时，一连的防化科目考核竟得了个零分。这让冠军呼声很高的一连官兵一声不吭，连长也耷拉下了脑袋。

一连是一营的训练先进单位，他们从训练骨干的配备、训练经验的传承、组训方法的优化，都有自己独特的一套。近年来一连的军事科目考核大多是冠军，这次是怎么了？

这次防化考核要求连队快速通过染毒地带，内容也比较简单，就是用帐篷充当“染毒地带”，战士配带防毒面具快速通过第一个帐篷后，再戴着防毒面具在第二个帐篷待3分钟即可。

考核前，一连各班早已做好了“充分准备”。按照以往考核的惯例，“染毒地带”通常是在帐篷里点上几盘蚊香充当毒气，班长为了提高戴防毒面具的速度，让战士们把防毒面具的带子弄松，这样排除面具里面的空气容易些，同时为了节省时间，把面具里面过滤毒气的薄膜也取掉了。反正以往考核基本也是这样做的，不但没被发现而且提高了成绩。连长其实心里也明白，但为了连队的成绩和荣誉也是睁一只眼闭一只眼。

考核中，一连很顺利通过了第一个帐篷，但进入第二个帐篷只待了几秒钟，战士们就一把鼻涕一把泪地跑了出来。原来，旅里发现有的连队为了图省事不按规定配戴防毒面具，为了提高官兵的实战意识，这次考核没用蚊香，而是用催泪瓦斯。由于一连没有完成这个项目，成绩为零分。

42. 根据以上材料，你认为一连在这次防化科目考核中暴露出哪些问题？并结合实际谈一谈如何开展实战化训练？（要求：观点明确，条理清晰，分析合理；300字以上）

点成军考
专业一对一军考辅导

第二部分 政工基本知识

一、单项选择（每小题2分，共24分）

43. 2016年10月21日，中共中央总书记、国家主席、中央军委主席习近平在纪念红军长征胜利80周年大会上发表重要讲话时强调，每一代人有每一代人的长征路，每一代人都要走好自己的长征路。今天，我们这一代人的长征，就是要实现_____奋斗目标，实现中华民族伟大复兴的中国梦。

- A. 全面建设小康社会
- B. “两个一百年”
- C. 社会主义现代化
- D. 全面建成小康社会

44. 党的十八届六中全会审议通过的《关于新形势下党内政治生活的若干准则》、《中国共产党党内监督条例》，一个突出的特点就是以_____为根本依据。重点是抓住“关键少数”，突出_____干部。

- A. 党章 基层
- B. 党章 高级
- C. 宪法 基层
- D. 宪法 高级

45. 经国务院扶贫开发领导小组评估并经_____省政府批准，2017年2月26日，_____正式宣布在全国率先脱贫摘帽。

- A. 河南 兰考县
- B. 陕西 延安市
- C. 贵州 遵义市
- D. 江西 井冈山市

46. 李克强总理2017年3月5日在作政府工作报告时提出，做好2017年政府工作要把握好五点：一是贯彻_____工作总基调，保持战略定力；二是坚持以推进_____为主线；三是适度扩大总需求并提高有效性；四是依靠创新推动新旧动能转换和结构优化升级；五是着力解决人民群众普遍关心的突出问题。

- A. 稳中求进 供给侧结构性改革
- B. 又好又快 供给侧结构性改革
- C. 稳中求进 全面深化改革
- D. 又好又快 全面深化改革

47. 实践最基本的形式是_____。

- A. 科学实验活动
- B. 创造精神财富的活动
- C. 处理社会关系的实践活动
- D. 改造自然的生产实践活动

48. 生产关系的基础是_____。

- A. 对生产过程的管理
- B. 生产力
- C. 生产资料所有制
- D. 产品的分配

49. 当前社会利益格局日益多元化，道德行为失范时有发生。但是众多“最美者”的行为，也频见报刊。公众对“最美者”的赞美告诉我们：道德之光，人心向善，依然是这个时代的主流。这说明_____。

- A. 矛盾的普遍性与特殊性相互联结
- B. 矛盾的次要方面决定事物的性质
- C. 具体问题具体分析是唯物辩证法的一个总特征
- D. 事物的性质是由主要矛盾的主要方面决定的

50. 当今世界, 各大国应超越零和博弈、集团政治等旧的思维方式, 建立长期、稳定、健康发展的新型大国关系。这就需要各国_____。

- ①坚持独立自主的和平外交政策 ②在平等互信基础上实现合作共赢
③遵循《联合国宪章》的宗旨和原则 ④在维护共同利益基础上消除利益差别
A. ①② B. ①③ C. ②③ D. ②④

51. 对公民在法律面前一律平等原则说明不正确的是_____。

- A. 公民都平等地享有宪法、法律规定的权利
B. 公民必须平等地履行宪法、法律规定的义务
C. 任何公民的合法权利都受到保护
D. 公民在法律面前一律平等, 既指法律实施上的平等, 也指立法平等

52. 经济全球化主要表现为_____。

- ①生产全球化 ②贸易全球化 ③资本全球化 ④文化全球化
A. ①②④ B. ①②③ C. ②③④ D. ①③④

53. 企业提高个别劳动生产率_____。

- A. 在竞争中处于有利地位
B. 在竞争中处于不利地位
C. 在竞争中没有什么影响
D. 在竞争中处于有利或不利地位无法确定

54. 中国特色社会主义文化建设的根本是_____。

- A. 在全社会形成共同理想和精神支柱 B. 发展教育和科学
C. 营造良好的文化环境 D. 深化文化体制改革

二、简答题 (每小题 6 分, 共 24 分)

55. 有灵魂, 是我军官兵必备的理想抱负, 简述“有灵魂”的深刻涵义。
56. 简述我国社会主义初级阶段的基本经济制度和分配制度。
57. 简述矛盾的斗争性在事物发展中的作用。
58. 新时期我军纪律的基本内容是什么?

三、辨析题 (先判断正误, 再分析理由。每小题 6 分, 共 18 分)

59. 唯物辩证法和形而上学的根本分歧在于是否承认事物是客观存在的。
60. 商品价值量与生产该商品的社会必要劳动时间成正比。
61. 党对军队的绝对领导, 是我军建设的根本原则。

四、论述题 (共 14 分)

62. 国家主席习近平在世界经济论坛 2017 年年会开幕式上的主旨演讲中指出, 我提出“一带一路”倡议 3 年多来, 已经有 100 多个国家和国际组织积极响应支持, 40 多个国家和国际组织同中国签署合作协议, “一带一路”的“朋友圈”正在不断扩大。中国企业对沿线国家投资达到 500 多亿美元, 一系列重大项目落地开花, 带动了各国经济发展, 创造了大量就业机会。“一带一路”倡议来自中国, 但成效惠及世界。根据习主席讲话, 请你结合实际论述“一带一路”建设对中国及世界的意义。

二〇一七年军队院校生长军官招生文化科目统一考试

大专毕业生士兵专升本军政基础综合试题参考答案及评分标准

第一部分 军事知识

一、单项选择（每小题2分，共80分）

- | | | | | |
|-------|-------|-------|-------|-------|
| 1. C | 2. B | 3. A | 4. B | 5. C |
| 6. A | 7. B | 8. D | 9. B | 10. B |
| 11. D | 12. B | 13. D | 14. D | 15. D |
| 16. B | 17. A | 18. C | 19. D | 20. B |
| 21. C | 22. D | 23. D | 24. B | 25. B |
| 26. A | 27. D | 28. B | 29. A | 30. A |
| 31. B | 32. A | 33. D | 34. B | 35. A |
| 36. C | 37. B | 38. A | 39. D | 40. B |

二、材料分析题（每小题20分，共40分）

41. 以色列能成为中东科技霸主的原因：

- (1) 先天环境迫使以色列人发明创造；
- (2) “科技立国”：政府大力扶持科技产业；
- (3) 高度重视人才培养与引进。

对我们的启示：

- (1) 坚定不移地贯彻“科技兴国”战略；
- (2) 鼓励和扶持科技创新；
- (3) 大力培养高素质科技创新人才。

分值分配：

以色列成为中东科技霸主的原因：每条3分，共9分。

对我们的启示：每条2分，共6分。

概括准确，条理清晰，语言流畅，3分。

字数符合要求（300字以上），2分。

42. 一连连的防化科目考核中暴露的问题：

- (1) “实战化”意识薄弱；
- (2) 考核中弄虚作假，训练作风不扎实；
- (3) 片面追求集体荣誉，忽视训练质量；
- (4) 连队干部发现问题没有严肃处理。

如何开展实战化训练：

- (1) 牢固树立“练为战”意识，遵循“训战一致”原则；
- (2) 加强实战化训练作风建设；
- (3) 紧贴实战设置训练内容和条件。

分值分配：

暴露的问题：每条2分，共8分。

如何开展实战化训练：每条2分，共6分。

概括全面、条理清楚、语言流畅，4分。

字数符合要求（300字以上），2分。

点成军考
专业一对一军考辅导

第二部分 政工基本知识

评分说明:

一、单项选择题 略。

二、简答题 要求紧扣题意,观点正确,简明扼要。只要基本观点不遗漏,就可给分。否则,相应扣分。

三、辨析题 要求判断正确,分析紧扣题意。理由充分无误,就可给分。否则,相应扣分。

四、论述题 要求紧扣题意,从理论和实际的结合上说明问题。如果说理透彻,联系实际论述充分,并有新的见解,可从优给分,但不得超过本题满分。

答案要点:

一、单项选择题 (每小题 2 分,共 24 分)

- | | | | | |
|-------|-------|-------|-------|-------|
| 43. B | 44. B | 45. D | 46. A | 47. D |
| 48. C | 49. D | 50. C | 51. D | 52. B |
| 53. A | 54. A | | | |

二、简答题 (每小题 6 分,共 24 分)

55. (6 分)

核心要义就是要信念坚定、听党指挥。(1 分)就是要始终保持对实现中国梦强军梦的坚定信念信心,(1 分)毫不动摇坚持党对军队绝对领导的根本原则和制度,(1 分)始终在思想上政治上行动上同党中央、中央军委和习主席保持高度一致,坚决听从党中央、中央军委和习主席指挥。(2 分)

56. (6 分)

公有制为主体、多种所有制经济共同发展是我国社会主义初级阶段的基本经济制度。(3 分)分配制度是实行按劳分配为主体、多种分配方式并存,把按劳分配与按生产要素分配结合起来。(3 分)

57. (6 分)

矛盾的斗争性在事物发展中的作用主要表现在:

- (1) 斗争推动矛盾双方力量对比发生变化,造成事物的量变;(3 分)
- (2) 斗争促使矛盾双方地位或性质转化,实现事物的质变。(3 分)

58. (6 分)

- (1) 执行中国共产党的路线、方针、政策;(2 分)
- (2) 遵守国家的宪法、法律、法规;(1 分)
- (3) 执行军队的条令、条例和规章制度;(1 分)
- (4) 执行上级的命令和指示;(1 分)
- (5) 执行三大纪律八项注意。(1 分)

三、辨析题（先判断正误，再分析理由。每小题6分，共18分）

59.（6分）

错误。（2分）

唯物辩证法和形而上学是两种根本对立的发展观。（1分）唯物辩证法和形而上学的根本分歧和斗争焦点在于是否承认事物的内在矛盾是事物发展的源泉和动力。（3分）

60.（6分）

正确。（2分）

商品的价值量是由生产这种商品所耗费的劳动时间决定的。（2分）决定商品价值量的劳动时间，不是个别劳动时间，而是社会必要劳动时间。商品的价值量是由生产商品的社会必要劳动时间决定的。（2分）

61.（6分）

正确。（2分）

我们党的性质和人民军队的阶级属性，决定了我军必须由中国共产党来领导。（1分）党对军队绝对领导的原则，是在长期革命斗争的实践中确立和完善的。（1分）党对军队绝对领导，是我国的基本军事制度和中国特色社会主义政治制度的重要组成部分，是党和国家的重要政治优势。（2分）

四、论述题（共14分）

62. “一带一路”是一个站在全球高度、盘活区域内各种资源、推进我国全面改革开放、促进我国与周边国家共同发展的战略安排。（1分）

（1）对中国的意义：“一带一路”建设有利于形成中国全方位对外开放的新格局，建设一个包容性很强的互利互惠平台。（2分）①“一带一路”战略规划把中国大多数省区市都纳入进来，连成片，形成带，全方位地推进国内各省区市的互联互通以及与沿途国家和地区的相互合作，进行产业的承接和转移，促使我国经济结构不断调整和升级，缩小东部和中西部的差距。（2分）②“一带一路”开辟新的进出口市场，把中国巨大的产品制造能力与沿途发展中国家巨大的市场需求结合起来，真正做到互利互惠。（2分）③“一带一路”战略有利于中国扩大对外直接投资，帮助中国企业走出去投资建厂生产。（1分）

（2）对世界的意义：“一带一路”有助于促进欧亚非大陆腹地不发达地区的经济增长，改变全球经济政治的空间布局和生活方式及其流向，促进世界均衡发展。（2分）

“一带一路”以共同发展为目标，强调“共商、共建、共享”，弘扬“和平合作、开放包容、互学互鉴、互利共赢”的新丝路精神，强调相关各国打造互利共赢的“利益共同体”和共同发展繁荣的“命运共同体”。有关各国自愿平等参与，发挥各自优势，实现互利互惠互补。（2分）通过互联互通和贸易投资便利化，形成公平、统一的市场竞争环境，促进各种资源的自由流动，更好地满足各个国家地区的发展需要，促进共同发展和繁荣，造福于沿途各国人民。（2分）